


Tomhais Airde na dTorthaí agus na nGlasraí.


Faigh airde gach torthaí agus glasraí i gceintiméadar ag úsáid an rialóir ar leathanach 2. Úsáid na línte dubha chun cabhrú leat tomhas ó bharr go bun na dtorthaí. Úsáid siosúr chun an rialóir a ghearradh amach.

1.




Cad é airde na sú talún? cm

2.



Cad é airde na biatais? cm

3.



Cad é airde na biatais? cm

_____ CM

Cad é airde an chairéid gan an pointe is airde de na glasa an chairéid a áireamh.

_____ cm

Gan Rialóir? Gan Fadhb!

Garr an rialóir seo amach agus bain úsáid as chun na torthaí agus na glasraí a thomhas!

